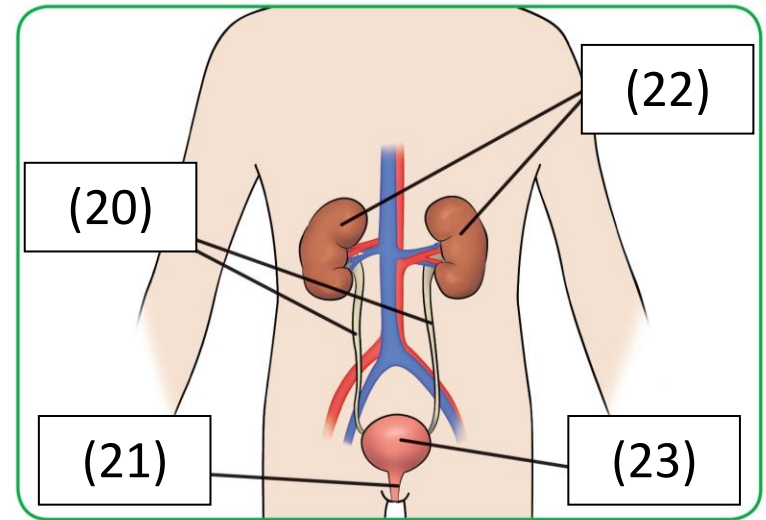
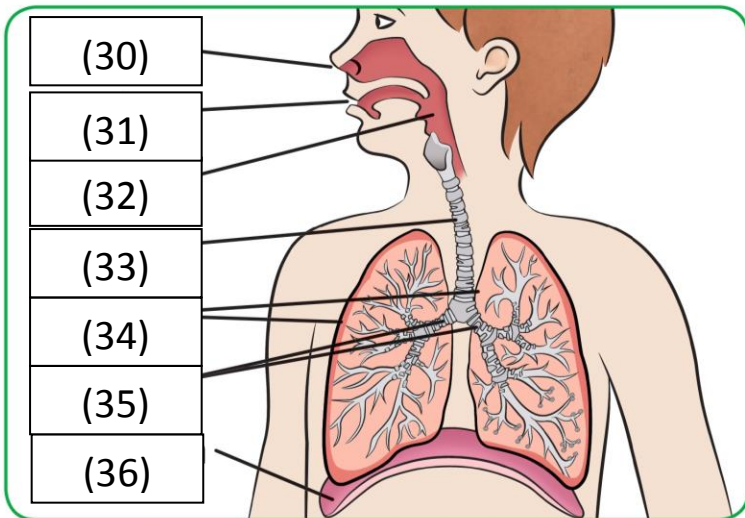


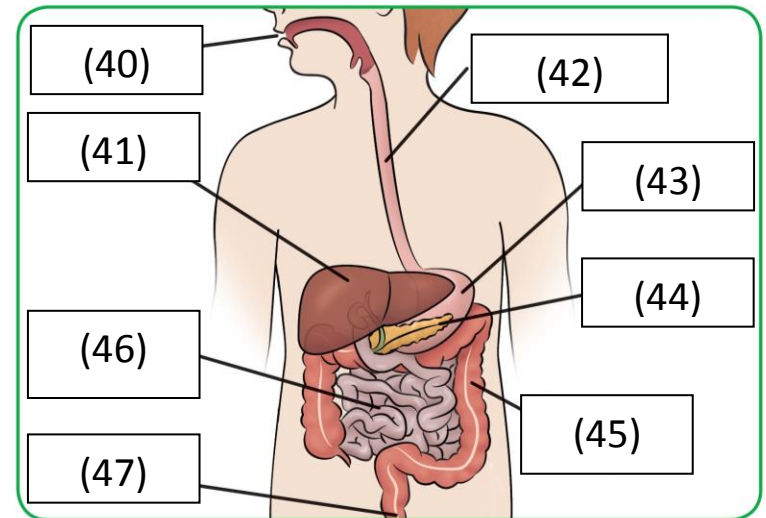
APARATO (1)



APARATO (2)



APARATO (3)



APARATO (4)

Según el esquema de los cuatro aparatos relacionados con la nutrición con números, escribe en tu cuaderno lo que corresponde a cada número. Si no te sabes alguno puedes mirar los archivos que te he pasado, si sigues sin descubrir a qué parte corresponde puedes dejarlo en blanco o buscarlo en internet.

APARATO (2) _____

(20) _____

(21) _____

(22) _____

(23) _____

APARATO (3) _____

(30) _____

(31) _____

(32) _____

(33) _____

(34) _____

(35) _____

(36) _____

APARATO (1) _____

(10) _____

(11) _____

(12) _____

APARATO (4) _____

(40) _____

(41) _____

(42) _____

(43) _____

(44) _____

(45) _____

(46) _____

(47) _____

