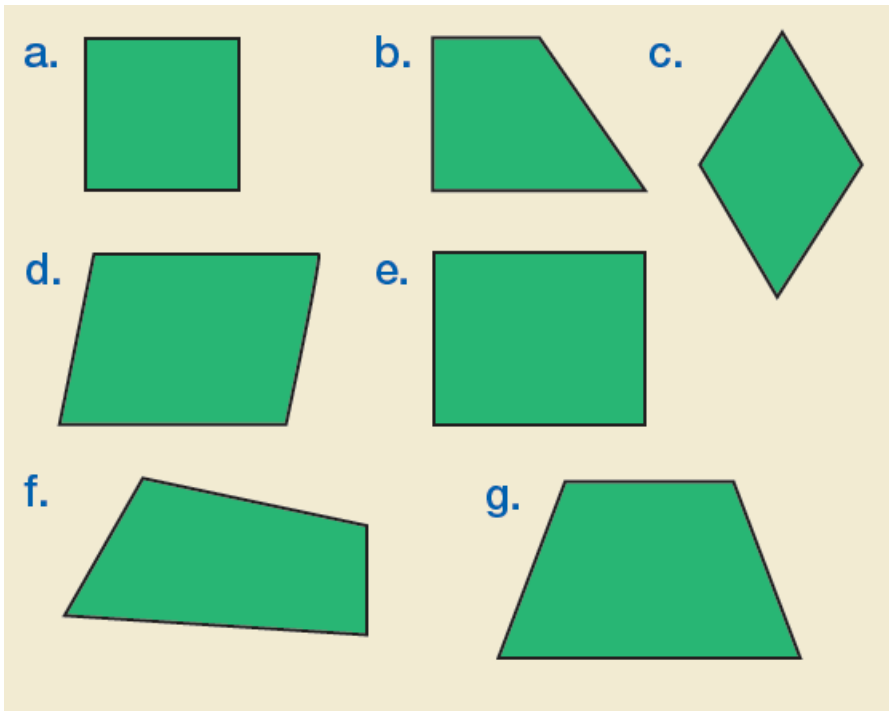
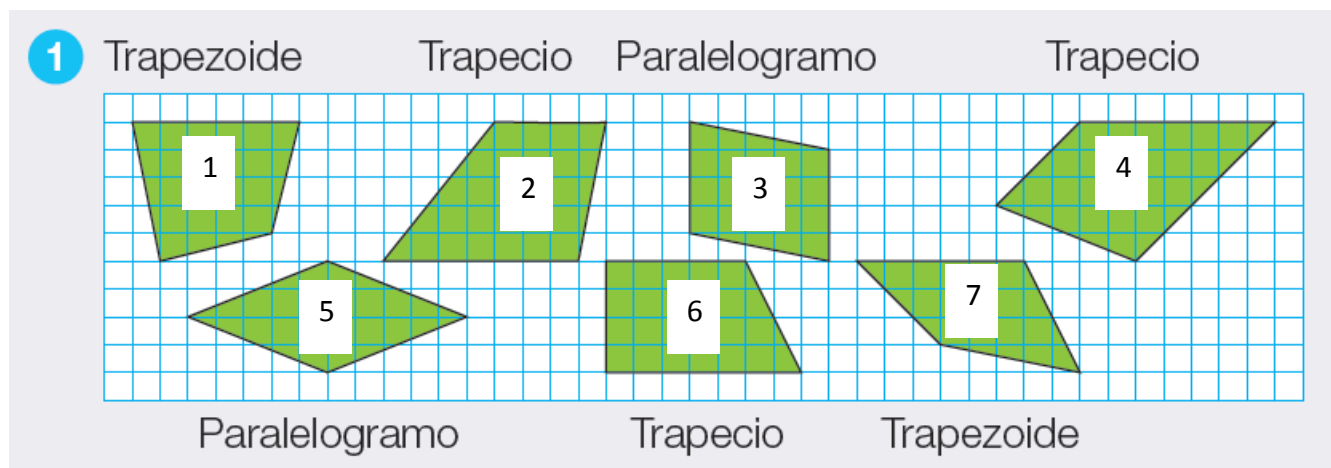


- Actividad 4 de la página 158.



- a. Paralelogramo - Cuadrado
- b. No paralelogramo - Trapecio
- c. Paralelogramo - Rombo
- d. Paralelogramo - Romboide
- e. Paralelogramo - Rectángulo
- f. No paralelogramo - Trapezoide
- g. No paralelogramo - Trapecio

- Haz lo mismo que la actividad anterior en la actividad 1 de la página 154 (no leas ni hagas caso de lo que dice el enunciado de la A.1 P.154)



1. No paralelogramo - Trapezoide

2. No paralelogramo - Trapecio

3. Paralelogramo - Romboide

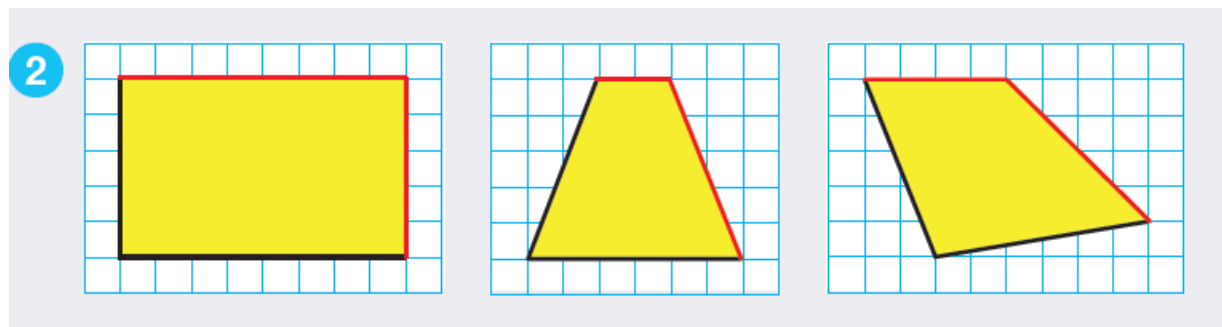
4. No paralelogramo - Trapecio

5. Paralelogramo - Rombo

6. No paralelogramo - Trapecio

7. No paralelogramo - Trapezoide

- Actividad 2 de la página 154.



## - Actividades 2 y 3 de la página 155.

- Los cuadrados y los rectángulos.
  - Los rectángulos y los romboides.
  - Los cuadrados y los rombos.
  - Los rombos y los romboides.
- **Los cuadrados y los rectángulos** tienen los lados paralelos dos a dos y los cuatro ángulos rectos. Pero el cuadrado tiene los lados iguales y el rectángulo no.
  - **Los rectángulos y los romboides** tienen los lados iguales dos a dos. Pero los rectángulos tienen cuatro ángulos rectos y los romboides tienen los ángulos iguales dos a dos.
  - **Los cuadrados y los rombos** tienen los 4 lados iguales. Pero los cuadrados tienen sus cuatro ángulos rectos y los rombos tienen los ángulos iguales dos a dos.
  - **Los rombos y romboides** tienen los ángulos iguales dos a dos. Pero los rombos tienen sus cuatro lados iguales y los romboides tienen los lados iguales dos a dos.

