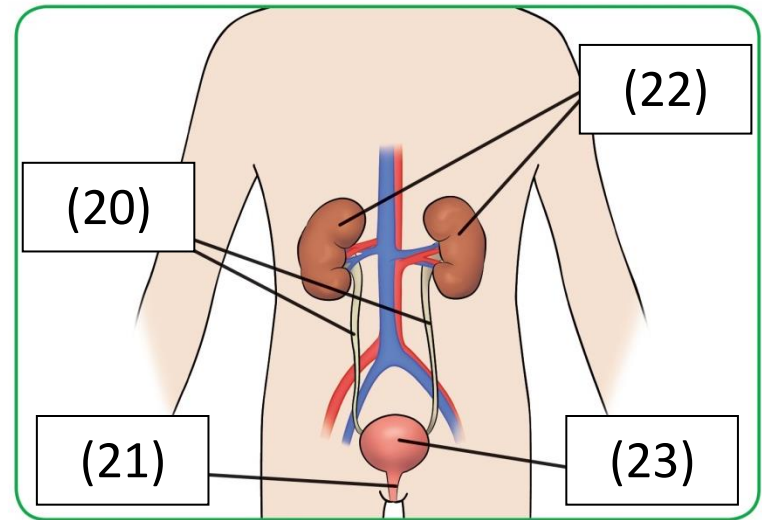
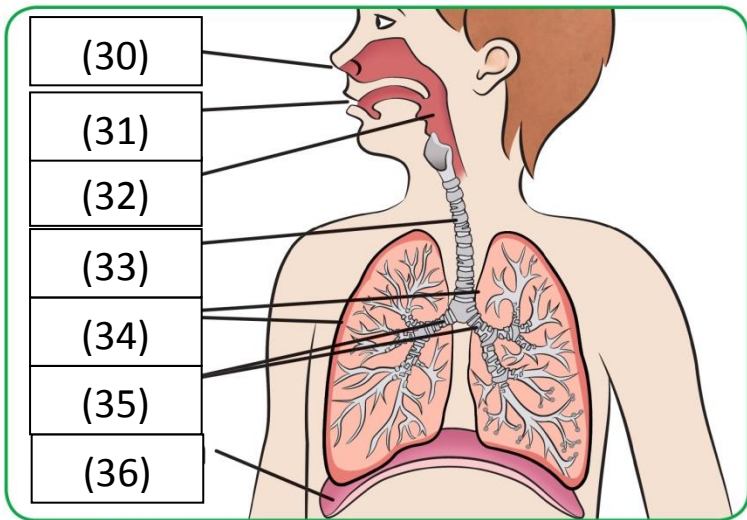


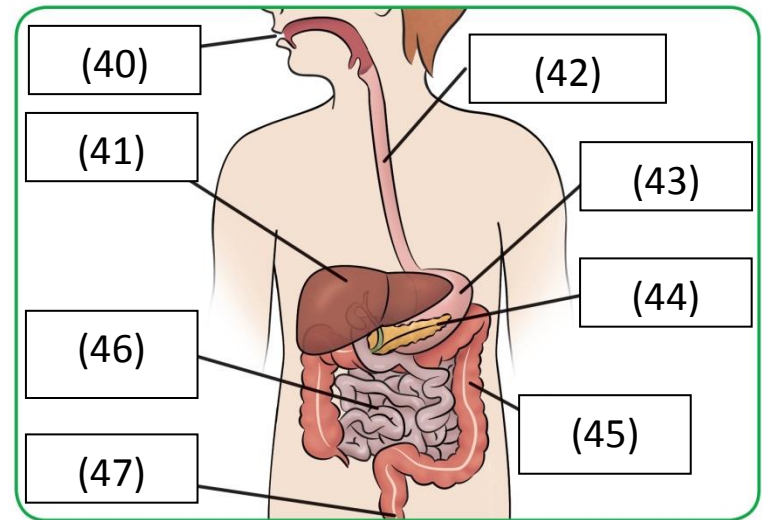
APARATO (1)



APARATO (2)



APARATO (3)



APARATO (4)

Según el esquema de los cuatro aparatos relacionados con la nutrición con números, escribe en tu cuaderno lo que corresponde a cada número. Si no te sabes alguno puedes mirar los archivos que te he pasado, si sigues sin descubrir a qué parte corresponde puedes dejarlo en blanco o buscarlo en internet.

APARATO (2) EXCRETOR

(20) uréteres

(21) uretra

(22) riñones

(23) vejiga urinaria

APARATO (3) RESPIRATORIO

(30) nariz

(31) boca

(32) faringe

(33) tráquea

(34) pulmones

(35) bronquios

(36) diafragma

APARATO (1) CIRCULATORIO

(10) venas

(11) arterias

(12) corazón

APARATO (4) DIGESTIVO

(40) boca

(41) hígado

(42) esófago

(43) estómago

(44) páncreas

(45) intestino grueso

(46) intestino delgado

(47) ano

