

- Actividad 1 de la página 152.

1 El triángulo azul es escaleno.
El triángulo rojo es equilátero.

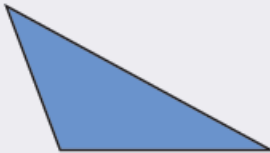
El triángulo verde es escaleno.
El triángulo naranja es isósceles.

- Actividad 3 de la página 153.


3




Equilátero acutángulo



Escaleno obtusángulo



Isósceles acutángulo



Isósceles rectángulo



Escaleno rectángulo

- El triángulo regular es equilátero acutángulo.

- Actividad 3 de la página 158.

A Equilátero acutángulo

B Isósceles rectángulo

C Escaleno rectángulo

D Escaleno obtusángulo

E Escaleno acutángulo

Actividades de Repaso:

- Actividades 1 y 2 de la página 163.

1 90° 35° 105°

- El ángulo recto mide 90° .
- Todos los ángulos rectos miden 90° .
- Ángulo agudo: 35° . Ángulo obtuso: 105° .

2 0,1 0,4 0,12 0,08 0,054